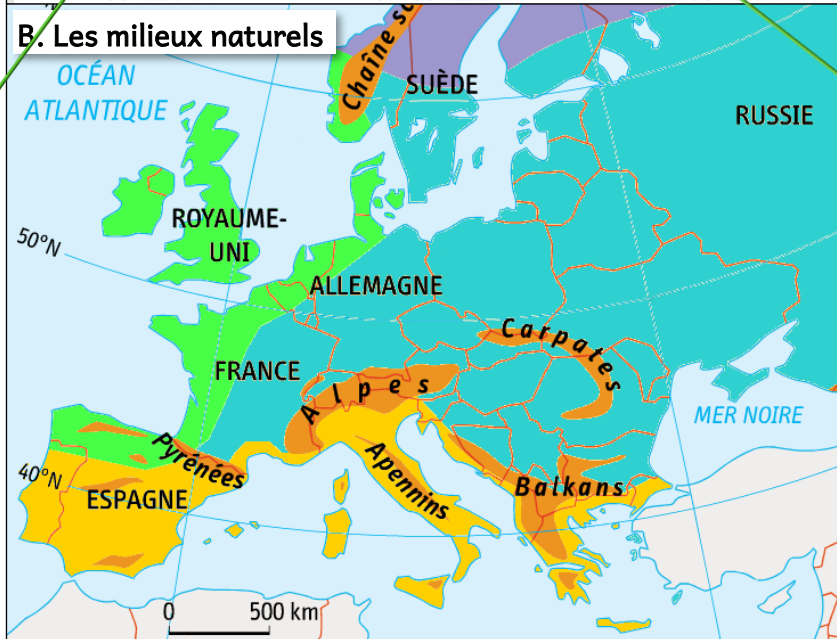
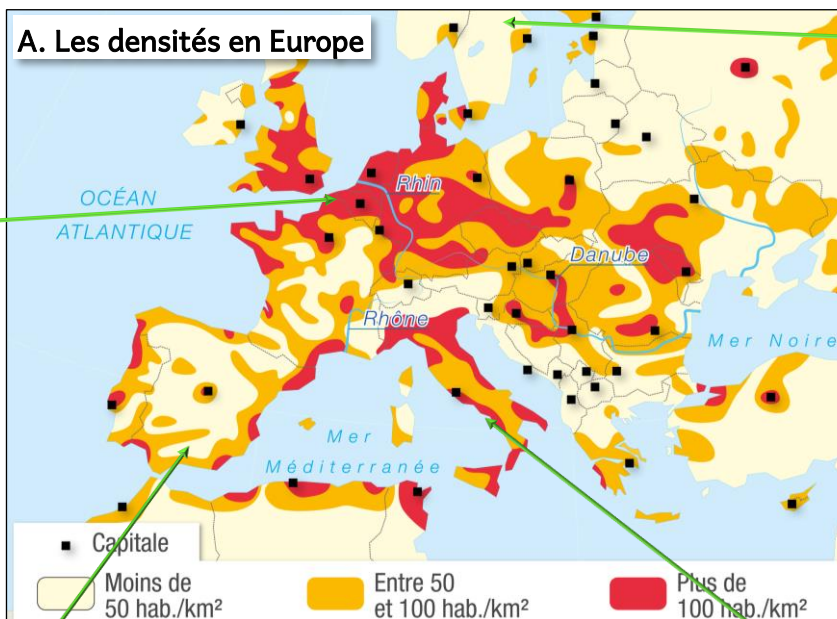
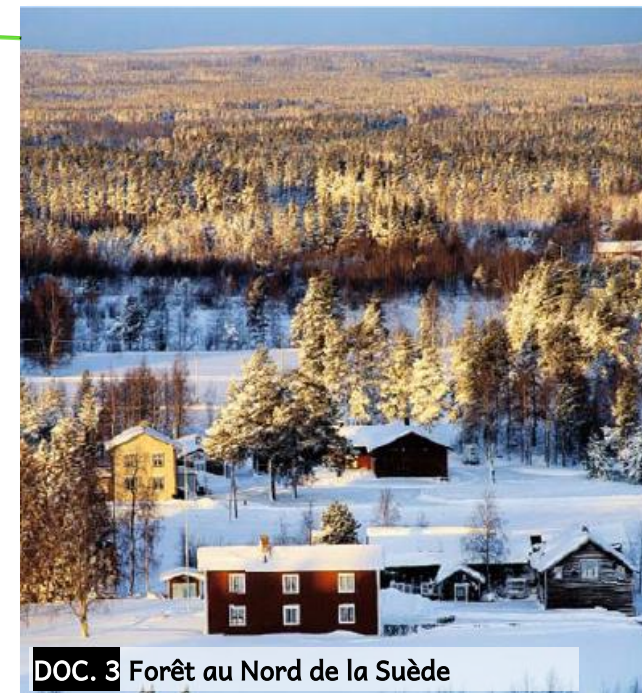



DOC. 1 Vue aérienne d'Hazebrouck (2009)




- Montagnard** : altitude et pentes fortes, peu d'espaces cultivables
- Polaire** : hiver long et très froid, agriculture impossible
- Océanique** : hivers frais, étés doux, humide toute l'année
- Continental** : hivers longs et froids, étés chauds et orageux
- Méditerranéen** : hivers doux, étés chauds et secs (manque d'eau)



DOC. 3 Forêt au Nord de la Suède



DOC. 2 Andalousie, Espagne (2015)



DOC. 4 Salerne, Sud de Naples, Italie (2006)



# I. Comment expliquer l'inégale répartition des hommes sur la Terre ?

(Aide du [livre p 285](#))

Je complète le tableau de synthèse ci-dessous pour tenter de comprendre et expliquer comment se répartissent les hommes sur le continent européen.

	Document 1	Document 2	Document 3	Document 4
<b>Localisation :</b> (en Europe)	Hazebrouck se situe dans le Nord de la France, en Europe de l'ouest			
Quelle <b>DENSITÉ*</b> de population je peux observer ? J'explique :	Nombreuses maisons et immeubles... = <b>Densité élevée</b> (Plus de 800 hab./km <sup>2</sup> )			
Quel <b>CLIMAT*</b> ?	<b>OCÉANIQUE</b> <b>ATOUT*</b> ou <b>CONTRAINT*</b> (pourquoi ?)  Climat facile pour cultiver la terre	<b>ATOUT*</b> ou <b>CONTRAINT*</b> (pourquoi ?)	<b>ATOUT*</b> ou <b>CONTRAINT*</b> (pourquoi ?)	<b>ATOUT*</b> ou <b>CONTRAINT*</b> (pourquoi ?)
Quel <b>RELIEF*</b> ?	<b>Plaine (de la Lys)</b> <b>ATOUT*</b> ou <b>CONTRAINT*</b> (pourquoi ?) Surface plane, facile pour cultiver la terre, habiter, s'installer...	<b>ATOUT*</b> ou <b>CONTRAINT*</b> (pourquoi ?)	<b>ATOUT*</b> ou <b>CONTRAINT*</b> (pourquoi ?)	<b>ATOUT*</b> ou <b>CONTRAINT*</b> (pourquoi ?)